

MATHS REVISION ASSIGNMENT

CLASS – V

- 1) Subtract :-  $\frac{7}{8}$  from  $1\frac{11}{24}$
- 2) Find the value of 95% of 170 kg
- 3) Simplify :-  $2\frac{1}{3} + 3\frac{1}{6} - 1\frac{5}{12}$
- 4) Find the loss percent, if the cost price of an article is ₹ 250 and selling price is ₹ 210.
- 5) Find the greatest number that divides 47, 77 and 89 leaving the remainder 5 in each case.
- 6) Find the area of a square of each side  $7\frac{3}{4}$  metres.
- 7) A test was given to a class of 50 students. If  $\frac{3}{5}$  of these students passed, then how many failed?
- 8) Find the HCF of 216 and 630 by long division method.
- 9) Find the LCM of 102, 136 and 170 by prime factorization method.
- 10) How many boxes each of size 10 cm x 8 cm x 5 cm can be packed in a carton of size 1 m x 72 cm x 50 cm?
- 11) The perimeter of an equilateral triangle is 18.3 cm. Find the length of each side of the triangle.
- 12) Find the smallest number which when divides 48, 60 and 12 leaves 7 as remainder.
- 13) The side of a square hall measures 80 m each. Find the area. If it costs ₹ 1.25 per sq. m. to tile the floor, how much will it cost to tile the entire floor?
- 14) Arrange in ascending order:-  $\frac{5}{12}$  ,  $\frac{4}{6}$  ,  $\frac{3}{5}$  ,  $\frac{11}{10}$
- 15) LEARN AND REMEMBER TABLES TILL 25.

**DELHI PUBLIC SCHOOL, DHANBAD**

**English Revision Assignment**

**Std V**

**Section:A- Comprehension passage**

Games and sports are very important for physical fitness. They are essential to live a healthy life. Therefore, they are given prominence in schools and other educational institutions. There are some people who consider games and sports as simply a waste of time. But they forget that 'health is wealth'. No other activity is as important as games and sports. These days nations are being recognised across the world, through their outstanding place for them.

1 Read the passage carefully and do as instructed

a) Complete the given sentences:-

I) They are essential to \_\_\_\_\_.

II) No other activity is as important \_\_\_\_\_

b) Tick the correct choice:-

I) Games and sport are very important for

a) Physical health      b) mental health

ii) There are some people who consider games and sports as simply \_\_\_\_\_ of time.

a) Waste      b) utility

**Section:B- Essay/Notice**

2. Write an essay on any one of the given topics:-

a) Good Health and Happiness are Inter-related.

b) Self-help is the best help

3. Write a notice regarding your lost geometry box

**Section:C -Grammar**

4. Change the following into Simple Past Tense:-

a) My brother was playing with me.

b) The gardener digs the field.

5. Complete the following sentences into the Past Continuous form of the verbs given in the brackets:-

a) I \_\_\_\_\_ a story yesterday. ( write)

b) He \_\_\_\_\_ his food. (eat)

6. Fill in the blanks with the Future Continuous form of the verbs given in the brackets:-

a) My uncle \_\_\_\_\_ our home. (visit)

b) We \_\_\_\_\_ in the park tomorrow. (play)

7. Underline the adverbs in the following sentences:-

a) I always respect my elders.

b) The baby slept quietly.

8. Fill in the blanks with suitable Preposition:-

a) We have lived here \_\_\_\_\_ 2014.

b) The ball fell \_\_\_\_\_ the well.

9. Fill in the blanks with suitable Conjunction:-

a) I love chocolates \_\_\_\_\_ cakes.

b) We worked hard \_\_\_\_\_ didn't succeed.

10. Use suitable Interjection to express each of the feelings given below:-

a) \_\_\_\_\_ What a lovely dress.

b) \_\_\_\_\_ You hurt me.

11. Insert punctuation marks wherever necessary in the given sentences:-

a) no you will not go out to play

b) where do you live grace

#### Section:D- Literature

12. Answer the following questions:-

Qa) How was the pillar repaired in the end?

Qb) What did Prissy do to bring cheer in her uncle's life?

13. Make a word tree of three words with:-

our

14. Make a word family of three words with:-

## Restaurants

15. Write who said to whom:-

- a) " I'm surprised that your father let you come. "
- b) " There wasn't even a ghost of an arm. "

16. Complete the poem:-

The \_\_\_\_\_ is full of \_\_\_\_\_

There are joys of \_\_\_\_\_

There's a \_\_\_\_\_ for every \_\_\_\_\_

That each \_\_\_\_\_ find.

17. Write true or false for the given statements:-

- a) Patan- pali was the most famous merchant of Benaras.
- b) Gansha indirectly helped Dashu in his plan.

18. Fill in the blanks:-

- a) Beethoven was one of the greatest \_\_\_\_\_ composer.
- b) West Bengal prefer their \_\_\_\_\_ dahi.

### Section: E-mail Competence Based Questions

19. Circle the odd one:-

Fins, beaks, gills

20. Complete the pattern

15, 14, 16, 15, 17, \_\_\_\_\_

XX

## **SST Class-5 Final Term Assignment,Session 2024-25**

**Q1. Give one word answer :**

**a. First Indian soldiers to revolt against the British (place)**

\_\_\_\_\_

**b. First war of Independence started in the Year. \_\_\_\_\_**

**c. Name of the rifle introduced in the army by the British. \_\_\_\_\_**

**d. The movement launched by Indians against partition of Bengal . \_\_\_\_\_ and \_\_\_\_\_**

**e. Map key is also known as \_\_\_\_\_.**

**f. Another name for Tundra region is \_\_\_\_\_.**

**g. \_\_\_\_\_ map tells about the location of economic activities.**

**h. \_\_\_\_\_ formed the Indian national Army.**

**i. \_\_\_\_\_ is known as Iron man of India.**

**j. Highlands and mountains are shown in \_\_\_\_\_ colour.**

**Q2. Give reason:**

**i. Maps have different colours \_\_\_\_\_**

**ii. Torrid zone has hot and humid climate.....**

**iii. Shimla and Nainital have cool climate in summers.....**

**Q3. Draw 5 signs used in the map and write what do they stand for.**

**Q4. Draw the different heat zones and label it.**

**Q5. Draw colour and name the important latitudes .Write their values also.**

**Q6 Differentiate between parallels and meridians.**

**Q7. Define :**

**i. Civil Disobedience Movement.      ii. Frigid zone**

**iii. International Date Line**

**Q8. Identify the pictures:**



Mahatma Gandhi & the Salt March

[This Photo hv](#)



दिल्ली पब्लिक स्कूल  
वार्षिक परीक्षा पुनरावृत्ति कार्यभार

विषय - हिंदी

कक्षा - पंचम

प्रश्न-1 निम्नलिखित प्रश्नों के उत्तर दें।

1. सिपाहियों को देखकर शिशुपाल क्यों डर गए?
2. सम्राट ने शिशुपाल को क्यों बुलवाया?
3. करन ने जंगल में ऐसा क्या देखा कि वह पसीना-पसीना हो गया?
4. पॉलीथिन हमारे लिए किस प्रकार हानिकारक है?
5. कबूतरों को देखकर करन को क्या शरारत सूझी?
6. न्यायमंत्री ने अपराधी को किस प्रकार दंड दिया?
7. गुलीवर के पैरों में जंजीरें किस प्रकार बँधवा दी गईं?
8. अंकित को सबने शाबाशी क्यों दी?

प्रश्न-2. शब्दार्थ लिखें।

मार्ग, सम्मान, विवेक, निपुण, रोशनी, नष्ट, अनमोल, सौभाग्य, अभिनय, बाधा, दृष्टि,  
कटुक, आश्रय, संकोच, सतर्क।

प्रश्न-3. किसने , किससे कहा?

1. “तुम्हें बहुत मजा आता है पशु- पक्षियों को तंग करने में।”
2. “तो आप अवसर चाहते हैं?”
3. “क्या मुझे रात काटने के लिए स्थान मिल जाएगा?”
4. “यह बहुत कठिन काम है।”
5. “आजकल बड़ा अन्याय हो रहा है।”

प्रश्न-4. कविता के माध्यम से रिक्तिपूर्ति करें।

क. हम बहता ----- ,  
----- प्यासे,  
कहीं भली -----,  
----- की मैदा से।

ख. ऐसे थे -----,  
----- सीमा पाने,  
लाल -----,  
----- दाने।

प्रश्न-5 विलोम शब्द लिखें।

कोमल, सुपुत्र, पाप, आरंभ, विस्तृत, उपकार, आदान, धर्म, जीवन, कृतज्ञ,  
वीर, स्वतंत्र

प्रश्न- 6 दो-दो पर्यायवाची शब्द लिखें।

नदी, निर्धन, पक्षी, हवा, मान, घोड़ा, कमल, बाग

प्रश्न-7 मुहावरों के अर्थ लिखें।

फूला न समाना, दाल न गलना, मिट्टी में मिल जाना, हाथ धोना, चार चाँद लगाना,  
नाक में दम करना

प्रश्न-8 अनेक शब्दों के लिए एक शब्द लिखें।

जो आँखों के सामने हो, जिसे करना आवश्यक हो, अपने देश की बनी वस्तु, जिसमें  
दया न हो, सुनने वाला, रात्रि में विचरण करनेवाला, जो साग- सब्जी खाता हो, जो  
मांस खाता हो

प्रश्न-9 श्रुतिसमभिन्नार्थक शब्दों के अर्थ लिखें।

दिशा- दशा, कुल- कूल, इस्तरी - स्त्री, नियत- नीयत, प्रमाण- परिमाण

प्रश्न-10 निम्नलिखित शब्दों के दो-दो अर्थ लिखें। (अनेकार्थी शब्द)

पर, श्याम, पत्र, हरि, फल, हार

प्रश्न-11. योग्यता के आधार पर प्रश्नों के उत्तर दें।

क. तिरंगा में हरा रंग किसका प्रतीक है?

ख. प : म :: त : -----

ग. समोसा : त्रिकोण :: गेंद : -----

घ. कुत्ता : भौंकता :: गाय : -----

प्रश्न-12. विराम चिह्नों के नाम बताएँ।

क. ( , ) , ख. ( | ) , ग. ( ? ) , घ. ( ! ) , ङ. ( ० )

प्रश्न-13. अनुच्छेद लिखें।

क. जब मैंने पहली बार सर्कस देखा, ख. नए वर्ष का अनुभव

प्रश्न-14. क. गृह कार्य न कर पाने पर कक्षाध्यापिका को क्षमा याचना पत्र लिखें।

ख. व्यायाम का महत्व बताते हुए छोटे भाई को पत्र लिखें।

प्रश्न-15. निम्नलिखित गद्यांश पढ़कर प्रश्नों के उत्तर दें।

सच्चा मित्र एक शिक्षक की भाँति होता है। जिस प्रकार शिक्षक अपने छात्र को सन्मार्ग की ही ओर अग्रसर करता है, उसी प्रकार एक सच्चा मित्र अपने मित्र को पाप की गर्त में गिरने से बचाता है। मानव-जीवन अधिक रहस्यपूर्ण है। कभी-कभी जीवन में ऐसे अवसर उपस्थित हो जाते हैं, जब मनुष्य की धर्म-बुद्धि नष्ट हो जाती है और उसका मन तेज़ गति से पाप की ओर दौड़ता है। ऐसे समय में मित्र का ही उपदेश अधिक कल्याणकारी सिद्ध होता है। मित्र के उपदेश का जितना प्रभाव हृदय पर पड़ता है, उतना और किसी का नहीं।

- क. सच्चा मित्र अपने मित्र को क्या करता है?
- ख. मानव- जीवन कैसा है?
- ग. गद्यांश से ढूँढ़कर दो सहचर शब्द लिखें।
- घ. विलोम शब्द लिखें। झूठा, कुमार्ग,
- ड. रेखांकित वाक्य से क्रिया शब्द ढूँढ़कर लिखें।



दिल्ली पब्लिक स्कूल  
वार्षिक परीक्षा पुनरावृत्ति कार्यभार

विषय - हिंदी

कक्षा - पंचम

प्रश्न-1 निम्नलिखित प्रश्नों के उत्तर दें।

9. सिपाहियों को देखकर शिशुपाल क्यों डर गए?
10. सम्राट ने शिशुपाल को क्यों बुलवाया?
11. करन ने जंगल में ऐसा क्या देखा कि वह पसीना-पसीना हो गया?
12. पॉलीथिन हमारे लिए किस प्रकार हानिकारक है?
13. कबूतरों को देखकर करन को क्या शरारत सूझी?
14. न्यायमंत्री ने अपराधी को किस प्रकार दंड दिया?
15. गुलीवर के पैरों में जंजीरें किस प्रकार बँधवा दी गईं?
16. अंकित को सबने शाबाशी क्यों दी?

प्रश्न-2. शब्दार्थ लिखें।

मार्ग, सम्मान, विवेक, निपुण, रोशनी, नष्ट, अनमोल, सौभाग्य, अभिनय, बाधा, दृष्टि,  
कटुक, आश्रय, संकोच, सतर्क।

प्रश्न-3. किसने , किससे कहा?

6. “तुम्हें बहुत मजा आता है पशु- पक्षियों को तंग करने में।”
7. “तो आप अवसर चाहते हैं?”
8. “क्या मुझे रात काटने के लिए स्थान मिल जाएगा?”
9. “यह बहुत कठिन काम है।”
10. “आजकल बड़ा अन्याय हो रहा है।”

प्रश्न-4. कविता के माध्यम से रिक्तिपूर्ति करें।

क. हम बहता ----- ,  
----- प्यासे,  
कहीं भली -----,  
----- की मैदा से।

ख. ऐसे थे -----,  
----- सीमा पाने,  
लाल -----,  
----- दाने।

प्रश्न-5 विलोम शब्द लिखें।

कोमल, सुपुत्र, पाप, आरंभ, विस्तृत, उपकार, आदान, धर्म, जीवन, कृतज्ञ,  
वीर, स्वतंत्र

प्रश्न- 6 दो-दो पर्यायवाची शब्द लिखें।

नदी, निर्धन, पक्षी, हवा, मान, घोड़ा, कमल, बाग

प्रश्न-7 मुहावरों के अर्थ लिखें।

फूला न समाना, दाल न गलना, मिट्टी में मिल जाना, हाथ धोना, चार चाँद लगाना,  
नाक में दम करना

प्रश्न-8 अनेक शब्दों के लिए एक शब्द लिखें।

जो आँखों के सामने हो, जिसे करना आवश्यक हो, अपने देश की बनी वस्तु, जिसमें  
दया न हो, सुनने वाला, रात्रि में विचरण करनेवाला, जो साग- सब्जी खाता हो, जो  
मांस खाता हो

प्रश्न-9 श्रुतिसमभिन्नार्थक शब्दों के अर्थ लिखें।

दिशा- दशा, कुल- कूल, इस्तरी - स्त्री, नियत- नीयत, प्रमाण- परिमाण

प्रश्न-10 निम्नलिखित शब्दों के दो-दो अर्थ लिखें। (अनेकार्थी शब्द)

पर, श्याम, पत्र, हरि, फल, हार

प्रश्न-11. योग्यता के आधार पर प्रश्नों के उत्तर दें।

ड. तिरंगा में हरा रंग किसका प्रतीक है?

च. प : म :: त : -----

छ. समोसा : त्रिकोण :: गेंद : -----

ज. कुत्ता : भौंकता :: गाय : -----

प्रश्न-12. विराम चिह्नों के नाम बताएँ।

ख. ( , ) , ख. ( | ) , ग. ( ? ) , घ. ( ! ) , ङ. ( ० )

प्रश्न-13. अनुच्छेद लिखें।

ग. जब मैंने पहली बार सर्कस देखा, ख. नए वर्ष का अनुभव

प्रश्न-14. क. गृह कार्य न कर पाने पर कक्षाध्यापिका को क्षमा याचना पत्र लिखें।

घ. व्यायाम का महत्व बताते हुए छोटे भाई को पत्र लिखें।

प्रश्न-15. निम्नलिखित गद्यांश पढ़कर प्रश्नों के उत्तर दें।

सच्चा मित्र एक शिक्षक की भाँति होता है। जिस प्रकार शिक्षक अपने छात्र को सन्मार्ग की ही ओर अग्रसर करता है, उसी प्रकार एक सच्चा मित्र अपने मित्र को पाप की गर्त में गिरने से बचाता है। मानव-जीवन अधिक रहस्यपूर्ण है। कभी-कभी जीवन में ऐसे अवसर उपस्थित हो जाते हैं, जब मनुष्य की धर्म-बुद्धि नष्ट हो जाती है और उसका मन तेज़ गति से पाप की ओर दौड़ता है। ऐसे समय में मित्र का ही उपदेश अधिक कल्याणकारी सिद्ध होता है। मित्र के उपदेश का जितना प्रभाव हृदय पर पड़ता है, उतना और किसी का नहीं।

च. सच्चा मित्र अपने मित्र को क्या करता है?

छ. मानव-जीवन कैसा है?

ज. गद्यांश से ढूँढ़कर दो सहचर शब्द लिखें।

झ. विलोम शब्द लिखें। झूठा, कुमार्ग,

ञ. रेखांकित वाक्य से क्रिया शब्द ढूँढ़कर लिखें।

## Science Revision Assignment

### Class V

#### **A) Define the following terms:-**

- 1) Olfactory Nerve
- 2) Neuron
- 3) Vectors
- 4) Disease
- 5) Satellites
- 6) First Class Lever
- 7) Phases of the moon
- 8) Craters
- 9) Simple Machine
- 10) Wedge

#### **B) Fill in the blanks:-**

- 1) The largest part of the brain is called \_\_\_\_\_.
- 2) The nervous system is made of \_\_\_\_\_, \_\_\_\_\_ and \_\_\_\_\_.
- 3) We should spray insecticides like \_\_\_\_\_ in and around our home.
- 4) \_\_\_\_\_ is a rich source of calcium.
- 5) \_\_\_\_\_ is an inclined plane wrapped around a rod.
- 6) The force which pulls everything towards the centre of the earth are called \_\_\_\_\_.
- 7) \_\_\_\_\_ is the ability to do work.
- 8) \_\_\_\_\_ of the moons surface always face the sun.
- 9) The earth's gravity is \_\_\_\_\_ of the earth.
- 10) \_\_\_\_\_ is an example of Scientific Satellite.

#### **D) Give reasons:-**

- 1) We immediately remove our hands on touching a very hot object.
- 2) Non communicable diseases are also called Deficiency Diseases.
- 3) Patients suffering from rickets are advised to sit in sun.
- 4) Life is impossible on the moon.
- 5) Earth is the only planet which has life on it.

**E) Draw, colour and labelled following diagrams:-**

- 1) Solar Eclipse
- 2) Lunar Eclipse
- 3) Structure of eye
- 4) Internal Structure of Brain
- 5) One example each of the 6 types of Simple Machines.



**Q1. Fill in the blanks:**

- a. The operators blocks is one of the \_\_\_\_\_ ten categories of Scratch blocks.  
(i) ten      (ii) eleven      (iii) eight      (iv) fourteen
- b. \_\_\_\_\_ is the name given to the memory location where the data gets stored?  
(i) Variable      (ii) Blocks      (iii) Recycle Bin
- c. +, -, \*, / are \_\_\_\_\_ operators.  
(i) Relational      (ii) Mathematical      (iii) Logical
- d. AND, OR, NOT are \_\_\_\_\_ operators  
(i) Logical      (ii) Relational      (iii) Mathematical

**Q2. Fill in the blanks with the correct words:**

Forever, Sprite, Relational, Sensing, Operator, Answer, concatenate

- a. To compare between two values \_\_\_\_\_ operators is used
- b. \_\_\_\_\_ block is used to concatenate two string values.
- c. The blocks from the \_\_\_\_\_ category lets you control the movements of the sprite in a better manner.
- d. \_\_\_\_\_ is used to take the input from the user.
- e. \_\_\_\_\_ block creates an infinite loop.
- f. \_\_\_\_\_ is the component of Scratch programming language
- g. To compare two values \_\_\_\_\_ block category is used.

**Q3. Complete the following project:**

Bouncing a ball

When \_\_\_\_\_ clicked

Point in direction

Forever

Move  steps

If on edge \_\_\_\_\_



# Delhi Public School, Dhanbad

## Monthly Assignment(January)

### Subject: Computer

### Std:V



#### Q1. Fill in the blanks:

- a. Google has launched a number of web-based applications called \_\_\_\_\_.
- b. \_\_\_\_\_ is a virtual store of various applications for Android powered smartphones.
- c. \_\_\_\_\_ view is used to display a presentation in the form of a slide show, but not on the full screen.
- d. \_\_\_\_\_ view is the default view of a presentation.
- e. \_\_\_\_\_ layout contains six different types of icons.
- f. The term 'Artificial Intelligence' was originally coined by \_\_\_\_\_ in 1956.
- g. EVA Chatbot uses \_\_\_\_\_.


#### Q2. State whether the following statements are true or false:

- a. We can only send an image as an attachment. \_\_\_\_\_
- b. Gmail offers the facility to send messages to anyone in the world. \_\_\_\_\_
- c. Text Box option is located in the Paragraph group. \_\_\_\_\_
- d. Speaker Notes are added in the Notes Pane. \_\_\_\_\_
- e. Artificial intelligent machines have not developed till now. \_\_\_\_\_
- f. Alexa is an example of artificial general intelligence. \_\_\_\_\_

#### Q3. Match the following:

- | A                            | B  |
|------------------------------|--|
| a. New Slide                 | (i) Paragraph Group  |
| b. Aligning Text             | (ii) Home Tab  |
| c. Google Drive, Google Play | (iii) Log in   |
| d. Sign in                   | (iv) to check language or suggest corrections in Word Processors |
| e. AI Fun Game               | (v) Google Apps  |
| f. Grammarly App             | (vi) Semantris   |

**Q4. Identify the Icons:**



**Q5. Choose the correct option from the given choices:**

- a. \_\_\_\_\_ is theoretically possible but not implemented practically  
(i) Artificial Narrow Intelligence      (ii) Artificial General Intelligence      (iii) Both of these
- b. Google Assistant is an example \_\_\_\_\_.  
(i) Artificial General Intelligence      (ii) Artificial Super Intelligence      (iii) Artificial Narrow Intelligence
- c. \_\_\_\_\_ is a virtual store of various applications for Android powered smartphones.  
(i) Google Calendar      (ii) Google Photos      (iii) Google Play Store
- d. You must set up a Gmail account to use any Google app  
(i) Yahoo      (ii) Gmail      (iii) Outlook
- e. The short cut key for New Slide is  
(i) CTRL+N      (ii) CTRL+M      (iii) CTRL+I
- f. This option is used to change the orientation of the text in a placeholder  
(i) Text Direction      (ii) Align Text      (iii) Aligning Text

**Q6. Answer the following questions:**

- a. How will you set up a Gmail account?
- b. 'Deleted e-mails can be restored'. Justify the statement.
- c. How will you create additional text placeholders in a slide?
- d. How will you add pictures in a presentation?
- e. What is the use of built-in templates in PowerPoint?
- f. Differentiate between ANI and AGI
- g. What is AI? Explain the categories of AI in detail.

**Q7. Write a short note on the following:**

- a. Google Calendar      b. CC      c. Google Apps      d. Machine Learning      e. Deep Learning      f. EVA

**Q8. Draw the following**

- a. Text Box      b. Align Left      c. Text Direction      d. Align Text      e. Pictures      f. Insert Table      g. Online Pictures  
h. Insert SmartArt Graphic      i. Insert Video      j. Shapes      k. ANI      l. Artificial Intelligence Types      m. Any three slide layouts  
n. Any three Google Apps      o. Google Docs Editors      p. Attach Files      q. Insert emoji      r. settings      s. Download  
t. Trash/Delete button



**Q9. Write the key combinations for the following:**

- a.Align Left
- b.Align Right
- c.Center
- d.Justify
- e. Insert a new slide

**Q10. Write the full forms of the following:**

- a.E-Mail
- b.AI
- c.ANI
- d.ASI
- e.AGI
- f.NLP

**Q11. Competency Based Questions**

a. Convert the following binary numbers into decimal

- (i)100            (ii)110            (iii)111            (iv)1111

b. What is the maximum valued card requires to convert 11010 into decimal?

- (i)32            (ii) 16            (iii)4

c. Convert 1011 into decimal using visual cards method

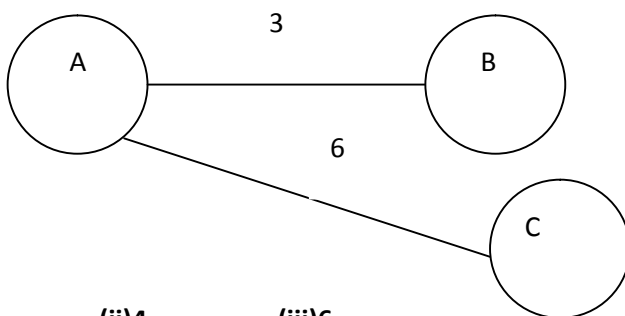
d. The nodes in a graph are in which shape?

- (i)straight lines            (ii)Circular            (iii)Rectangular

e. A symmetric relation is one in which the graphical representation of relation need not have

- (i)Nodes drawn            (ii)Directions attributed to lines joining nodes            (iii)Names given to nodes

f. What is the weight of the edge between A and C in the below graph?



- (i)2            (ii)4            (iii)6

f. Find the least value out of 4,2,12,10,7

- (i)2            (ii)4            (iii)7

g. Write the Absolute value of -41 8 -21 -10 27

h. 4,9,16,25,36. They are all \_\_\_\_\_

i. Circle the maximum absolute value for the following

- (i) -4, 6, 1 -8            (ii) -1,7,2,8

j. Which of the two numbers:25 and -27 has the larger absolute value?

- (i) 25            (ii)-27            (iii)cannot be said



# Delhi Public School, Dhanbad

## Monthly Assignment(January)

### Subject: Computer

### Std:V



#### Q1. Fill in the blanks:

- a. Google has launched a number of web-based applications called \_\_\_\_\_.
- b. \_\_\_\_\_ is a virtual store of various applications for Android powered smartphones.
- c. \_\_\_\_\_ view is used to display a presentation in the form of a slide show, but not on the full screen.
- d. \_\_\_\_\_ view is the default view of a presentation.
- e. \_\_\_\_\_ layout contains six different types of icons.
- f. The term 'Artificial Intelligence' was originally coined by \_\_\_\_\_ in 1956.
- g. EVA Chatbot uses \_\_\_\_\_.


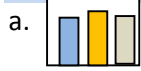
#### Q2. State whether the following statements are true or false:

- a. We can only send an image as an attachment. \_\_\_\_\_
- b. Gmail offers the facility to send messages to anyone in the world. \_\_\_\_\_
- c. Text Box option is located in the Paragraph group. \_\_\_\_\_
- d. Speaker Notes are added in the Notes Pane. \_\_\_\_\_
- e. Artificial intelligent machines have not developed till now. \_\_\_\_\_
- f. Alexa is an example of artificial general intelligence. \_\_\_\_\_

#### Q3. Match the following:

- | A                            | B  |
|------------------------------|--|
| a. New Slide                 | (i) Paragraph Group  |
| b. Aligning Text             | (ii) Home Tab  |
| c. Google Drive, Google Play | (iii) Log in   |
| d. Sign in                   | (iv) to check language or suggest corrections in Word Processors |
| e. AI Fun Game               | (v) Google Apps  |
| f. Grammarly App             | (vi) Semantris   |

**Q4. Identify the Icons:**



**Q5. Choose the correct option from the given choices:**

- a. \_\_\_\_\_ is theoretically possible but not implemented practically  
(i) Artificial Narrow Intelligence      (ii) Artificial General Intelligence      (iii) Both of these
- b. Google Assistant is an example \_\_\_\_\_.  
(i) Artificial General Intelligence      (ii) Artificial Super Intelligence      (iii) Artificial Narrow Intelligence
- c. \_\_\_\_\_ is a virtual store of various applications for Android powered smartphones.  
(i) Google Calendar      (ii) Google Photos      (iii) Google Play Store
- d. You must set up a Gmail account to use any Google app  
(i) Yahoo      (ii) Gmail      (iii) Outlook
- e. The short cut key for New Slide is  
(i) CTRL+N      (ii) CTRL+M      (iii) CTRL+I
- f. This option is used to change the orientation of the text in a placeholder  
(i) Text Direction      (ii) Align Text      (iii) Aligning Text

**Q6. Answer the following questions:**

- a. How will you set up a Gmail account?
- b. 'Deleted e-mails can be restored'. Justify the statement.
- c. How will you create additional text placeholders in a slide?
- d. How will you add pictures in a presentation?
- e. What is the use of built-in templates in PowerPoint?
- f. Differentiate between ANI and AGI
- g. What is AI? Explain the categories of AI in detail.

**Q7. Write a short note on the following:**

- a. Google Calendar      b. CC      c. Google Apps      d. Machine Learning      e. Deep Learning      f. EVA

**Q8. Draw the following**

- a. Text Box      b. Align Left      c. Text Direction      d. Align Text      e. Pictures      f. Insert Table      g. Online Pictures  
h. Insert SmartArt Graphic      i. Insert Video      j. Shapes      k. ANI      l. Artificial Intelligence Types      m. Any three slide layouts  
n. Any three Google Apps      o. Google Docs Editors      p. Attach Files      q. Insert emoji      r. settings      s. Download  
t. Trash/Delete button

**Q9. Write the key combinations for the following:**

- a.Align Left
- b.Align Right
- c.Center
- d.Justify
- e. Insert a new slide

**Q10. Write the full forms of the following:**

- a.E-Mail
- b.AI
- c.ANI
- d.ASI
- e.AGI
- f.NLP

**Q11. Competency Based Questions**

1. शब्दार्थान् लिखत ।  
प्रातः, सप्तवादनै, वर्गे, धाविका, कन्दुकेन, बहिः,  
तरणताले, सार्यकाले, मनोयोगेन, कुर्मः।
2. अनुवादं कुरुत ।  
हम सब मैदान में दौड़ते हैं ।  
हम सब जेद से खेलते हैं ।  
हम सब मन से पढ़ते हैं ।  
हम सब बाहर खेलते हैं ।  
हम सब महिला हैं ।
3. रिक्त-स्थानानि पूरयत ।  
वयं ईशं . . . . । (नमामः/नमामि)  
वयं पुस्तकं . . . . । (पठामः/पठामः)  
. . . . . छात्राः स्मः । (वयम्/अहम्)  
वयं धाविकाः . . . . । (स्मः/अस्मि)  
वयं . . . . पिबामः । (जलेन/दुग्धम्)